

BASANT VALLEY PUBLIC SCHOOL
Plot no - 119, Sec- 46, Gurgaon
Revision Worksheet - Hindi

Class - 2

प्र 1. निम्नलिखित शब्दों के अर्थ लिखो।

1. अचानक

2. उपहार

3. उदास

4. निर्माण

प्र 2. निम्न पंक्तियों को पूरा कीजिए।

1. सरदी आई,

..... वर्दी आई।

सबने लादें

..... चाहे तगड़े।

प्र 3. दिए गए वाक्यों में (✓) या (x) का निशान लगाइए।

1. होली वाले दिन हम पटाखे चलाते हैं। ()

2. मीनू के चाचा जी दिल्ली में रहते थे। ()

3. शीनू ने नीना से अब्बा कर ली। ()

4. सरदी में नाक लाल हो जाती है। ()

प्र 4. दिए गए प्रश्नों के उत्तर में (✓) का निशान लगाइए।

1. शीनू किस त्योहार की बात कर रही है ?

क) होली () ख) दीवाली () ग) रक्षा बंधन ()

2. सरदी में सारे बदन में क्या भर जाती है ?

क) सिकुड़न () ख) ठिठुरन () ग) बेदर्दी ()

3. मीनू अपने माता पिता के साथ कहाँ घूमने गई थी ?

क) जयपुर () ख) दिल्ली () ग) आगरा ()

4. हवामहल में कितने झरोंखे है ?

क) 943 () ख) 953 () ग) 950 ()

प्र 5. दिए गए प्रश्नों के उत्तर दीजिए ।

1. चाचा जी ने मीनू को क्या दिया ?

2. सरदी क्या पहनकर आई ?

3. होली के दिन एक – दूसरे को क्या लगाते हैं ?

4. पहले रंग कैसे बनाए जाते थे ?

व्याकरण

प्र 1. सर्वनाम शब्द पर गोला लगाइए।

1. वह दिल्ली जा रहा है।
2. उसे चुप कराओ।
3. वे आज ही आए हैं।
4. मोहन उसे घर पर मिला।

प्र 2. क्रिया शब्द पर गोला लगाओ।

1. बतख तैर रही है।
2. मोनिका वीणा बजाती है।
3. वंदना सेब खा रही है।
4. बच्चा रो रहा है।

प्र 3. इन शब्दों के विलोम शब्द लिखो।

- | | | | |
|---------|--|--------|--|
| 1. कठिन | <input type="text"/>
<input type="text"/>
<input type="text"/> | 2. वीर | <input type="text"/>
<input type="text"/>
<input type="text"/> |
| 3. आशा | <input type="text"/>
<input type="text"/>
<input type="text"/> | 4. आना | <input type="text"/>
<input type="text"/>
<input type="text"/> |

प्र 4. सही मिलान कीजिए।

जो क्रिकेट खेलता है।

दर्जी

जो कपड़े सिलता है।

अध्यापक

जो पत्र बाँटता है।

क्रिकेटर

जो बच्चों को पढ़ाता है।

डाकिया

BASANT VALLEY PUBLIC SCHOOL
Plot no - 119, Sec- 46, Gurgaon
Revision Worksheet - EVS

Class - 2

Q.1. Fill in the blanks -

- 1) _____ planet is the closest to the sun.
- 2) _____ planet has life.
- 3) The moon keeps changing its _____.
- 4) The _____ months are hot.
- 5) The sky gets filled with clouds during _____ season.

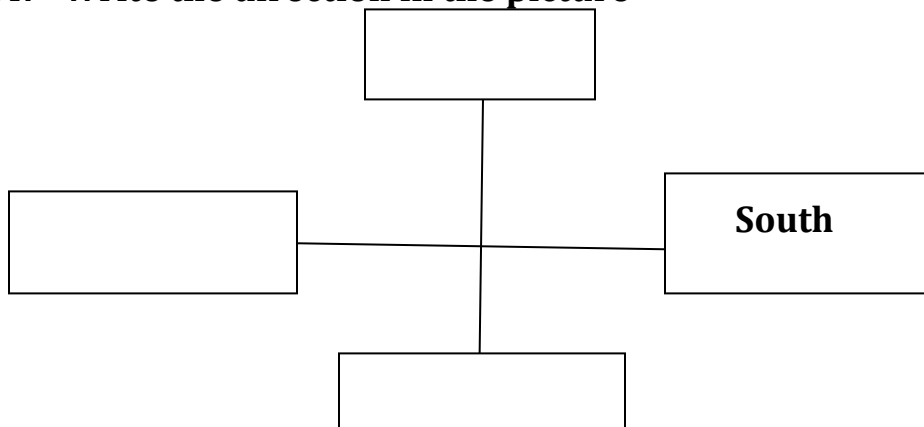
Q.2. Tick the correct answer -

- 1) It rains accompanied by thunder during.
a) monsoon b) drought
- 2) Trees shed their leaves during -
a) Autumn b) spring
- 3) If we face the setting sun, the north is to our.
a) right b) left
- 4) We can find a place with the help of -
a) directions b) police
- 5) The earth is a planet in the -
a) Solar system b) moon

Q.3. Write 'T' for true or 'F' for false -

- a) The sun gives us heat & light. ()
- b) The stars are far away from us. ()

Q.4. Write the direction in the picture -



Q.5. Answer the following questions -

1) Name the four directions.

Ans. _____

2) How are direction helpful to us?

Ans. _____

3) Write two ways in which moon differs from sun.

Ans. _____

4) What is the difference between weather & season?

Ans. _____

5) I which season do we use heaters & light - fires & why?

Ans. _____

Q.6. Write word meanings.

a) Spring - _____

b) Weather - _____

c) Map - _____

d) Poornima - _____

e) Amavasya - _____

BASANT VALLEY PUBLIC SCHOOL
Plot no - 119, Sec- 46, Gurgaon
Revision Worksheet - MATHS

Class - 2

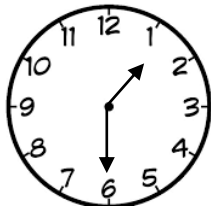
Q.1. Fill in the blanks -

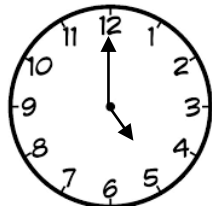
- a) A cube has _____ vertices, _____ edges & _____ faces.
- b) A sphere has a _____ surface.
- c) A cone has one _____, face & one _____ face .
- d) 1kg = _____ g
- e) 1l = _____ ml
- f) A square has _____ sides.
- g) A circle has _____ corners.
- h) A triangle has _____ sides.

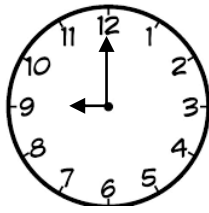
Q.2. Draw different shapes & colour them.

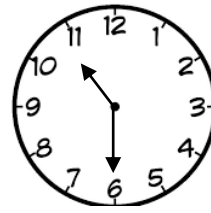
- a) Triangle
- b) Cone
- c) Square

Q.3. Look at the clock & write the correct time in both the ways.









Q.4. Answer the following questions -

- 1) Which days comes in between Monday & Wednesday.
- 2) Independence day fall in which month?
- 3) Which is the ninth month of a year?
- 4) Which season comes in between Sharada & Hemanta?
- 5) Which season comes after hemanta?

Q.5. Add the following -

a)
$$\begin{array}{r} 6 \quad 2 \quad 6 \quad \text{ml} \\ + 7 \quad 0 \quad 2 \quad \text{ml} \\ \hline \\ \hline \end{array}$$

b)
$$\begin{array}{r} \text{L} \quad \quad \text{ML} \\ 962 \quad \quad 213 \\ + 102 \quad \quad 103 \\ \hline \\ \hline \end{array}$$

c)
$$\begin{array}{r} \text{L} \quad \quad \text{ML} \\ 92 \quad \quad 02 \\ + 10 \quad \quad 30 \\ \hline \\ \hline \end{array}$$

d)
$$\begin{array}{r} \text{L} \quad \quad \text{ML} \\ 613 \quad \quad 10 \\ + 23 \quad \quad 10 \\ \hline \\ \hline \end{array}$$

Q.6. Subtract -

a) L ML
 960 190
- 350 281

b) L ML
 500 600
- 200 390

c) 9 6 0 L
- 3 0 2 L

d) 9 2 4 L
- 6 1 3 L

Q.7. Word Problem -

a) **Meta did not go to school from Monday to Thursday. For how many days was Meta absent from school?**

b) **A drum contains 96 liters of oil. Another drum contain 48 liters of oil. Both are emptied in an empty tank how much oil is filled in the tank?**

c) **The capacity of a flask is 2l 300ml. the capacity of another flask in 2l 125ml. what is the difference between the capacities of the two flask?**

BASANT VALLEY PUBLIC SCHOOL
Plot no - 119, Sec- 46, Gurgaon
Revision Worksheet - English

Class - 2

Q.1. Change the verbs given in brackets into past tense to fill in the blanks -

- 1) We _____ (walk) to school yesterday.
- 2) Teena _____ (go) to Italy last week.
- 3) Ritu _____ (eat) the cakes, fast.
- 4) Rohan _____ (copy) well, yesterday.

Q.2. Write the appropriate prepositions to fill in the blanks.

- 1) The man climbed _____ the hill.
- 2) The child is sitting _____ the mat.
- 3) He goes for a walk _____ his dog.
- 4) Rita posted a letter _____ her father.

Q.3. Underline the conjunctions.

- 1) The farmer planted some plants but they dried without water.
- 2) I have a red box and a blue box.
- 3) Parushi had fever so she could not go to school.
- 4) Do you like to come along with me or with grandmother?

